

KENDRIYA VIDYALAYA-I.I.T CAMPUS. CHENNAI-36

Class : III

ENGLISH WORKSHEET

EXPECTED LEARNING OUTCOME:

TOPIC: UNIT VII LITTLE TIGER BIG TIGER

READING: The child is able to read and retell the story.

SPELLING: The Child is able to identify the correct spelling.

WRITING: The child is able to answer the given questions

I. Read the lesson and answer the following questions :

1. Where did the mother tiger and her small tiger cub live?

2. Who saw the tiger and made a loud noise?

3. What did the mother tiger hunt when the sky was dark?

4. What did the tiger cub see one night?

5. What happened to the tiger cub at the end?

II. Circle the correct spelling:

1. belowed/ bellowed

2. grunt/ grent

3. twitched/ twiched

4. pounced/ punced

5. frightened/ fritened

III. Make sentences on your own for the following words:

1. **shady**

2. **near**

3. **watched**


4. **jungle**

5. **chased**

विषय : हिन्दी

प्रश्न :- नीचे दिये गए चित्रों को पहचान कर उनके नाम लिखो :-

भैंस साँप बकरी भालू शेर ऊँट
चीता हिरण घोड़ा हाथी कुत्ता गाय




.....




.....



.....



.....



.....



.....



.....

.....



.....


.....



.....

.....

प्रश्न : मिलान करो



पशु और उनकी
आवाज़

चिंघाड़ना



दहाड़ना



भौंकना



रंभाना



हिनहिनाना



रेंगना

प्रश्न :- नीचे दिये गए गद्यांश को पढ़ें और निम्नलिखित प्रश्नों के उत्तर दो :

मीरा बहन का जन्म इंग्लैंड में हुआ था। गांधी जी के विचारों का उन पर इतना असर हुआ कि वे अपना घर और माता-पिता को छोड़ कर भारत आ गईं और गांधी जी के साथ काम करने लगीं। आज़ादी के पाँच साल बाद उन्होंने उत्तरप्रदेश के एक पहाड़ी गाँव, गवली में गोपाल आश्रम की स्थापना की।

उस आश्रम में मीरा बहन का बहुत सारा समय पालतू पशुओं की देखभाल में बीतता था लेकिन गवली गाँव के आसपास के जंगलों में बाघ जैसे खतरनाक जानवर भी रहते थे।

1) मीरा बहन का जन्म कहाँ हुआ था ?

.....
.....

2) मीरा बहन ने गवली गाँव में कौन से आश्रम की स्थापना की ?

.....
.....

3) मीरा बहन का सारा समय कैसे बीतता था ?

.....
.....

4) के विचारों का उन पर इतना असर हुआ कि वे अपना घर और माता-पिता को छोड़ कर भारत आ गईं।

5) कोई पाँच नाम वाले शब्द लिखो :-

.....

प्रश्न : संज्ञा शब्द पर गोला लगाओ :

- 1) राम और श्याम मित्र हैं।
- 2) माउन्ट एवरेस्ट सबसे ऊँची चोटी है।
- 3) दिल्ली शहर यमुना नदी के किनारे बसा हुआ है।
- 4) चिड़िया उड़ रही है।
- 5) ताजमहल आगरा में है।

प्रश्न : सर्वनाम शब्द पर गोला लगाओ :

- 1) वह मेरा दोस्त है।
- 2) कल तुम कहाँ जाओगे ?
- 3) उसने मुझसे कहा कि वह खेल रहा है।
- 4) तुम्हारे घर में कौन – कौन है ?
- 5) क्या कल तुम वहाँ गए थे ?

Copy the following link and open in any browser for information:

- 1) तरह-तरह की आवाजों के लिए नीचे दिये गए लिंक पर क्लिक करें या गूगल क्रोम (ब्राउज़र) में जाकर पेस्ट करें।

<https://www.youtube.com/watch?v=JJQHJhTvo1k>

- 2) तरह-तरह के जानवरों की जानकारी के लिए नीचे दिये गए लिंक पर क्लिक करें या गूगल क्रोम (ब्राउज़र) में जाकर पेस्ट करें।।

<https://www.youtube.com/watch?v=p3g7cHvOCG4>

Sub : Maths

Complete these :

x	1	2	3	4	5	6	7	8	9	10
4										

x	1	2	3	4	5	6	7	8	9	10
6										

Complete using multiplication tables:

a. $9 \times 8 =$ _____ b. $6 \times 6 =$ _____ c. $9 \times 4 =$ _____

d. $5 \times 4 =$ _____ d. $7 \times 6 =$ _____ e. $6 \times 5 =$ _____

f. $8 \times 4 =$ _____ g. $3 \times 9 =$ _____ h. $2 \times 9 =$ _____

i. $10 \times 4 =$ _____ J. $11 \times 4 =$ _____ k. $20 \times 6 =$ _____

Multiply :

a.
$$\begin{array}{r} 68 \\ \times 5 \\ \hline \end{array}$$

b.
$$\begin{array}{r} 54 \\ \times 3 \\ \hline \end{array}$$

c.
$$\begin{array}{r} 36 \\ \times 6 \\ \hline \end{array}$$

d.
$$\begin{array}{r} 76 \\ \times 2 \\ \hline \end{array}$$

e.
$$\begin{array}{r} 46 \\ \times 4 \\ \hline \end{array}$$

f.
$$\begin{array}{r} 42 \\ \times 10 \\ \hline \end{array}$$

g.
$$\begin{array}{r} 29 \\ \times 12 \\ \hline \end{array}$$

h.
$$\begin{array}{r} 48 \\ \times 11 \\ \hline \end{array}$$

i.
$$\begin{array}{r} 89 \\ \times 15 \\ \hline \end{array}$$

j.
$$\begin{array}{r} 90 \\ \times 14 \\ \hline \end{array}$$

WORD PROBLEMS

1. In one pocket there are 7 sweets. How many sweets will be there in 5 such pockets?
2. A tray has 9 eggs. How many eggs will be there in 4 such trays?
3. A sheet has 3 stars drawn. How many stars will be there in 11 such sheets of papers?
4. On a bench 3 students can sit. How many students can sit 13 such type of benches?
5. Cost of a note book is 12 rupees. What is the cost of 4 such notebooks?

Identify the game: Look at the balls given below and list them out in the space below:



Use fresh clay and create something. Carry it to school on Monday: 23 November . If you do not have clay, use chappati dough!

Hint: <https://www.youtube.com/watch?v=2WG-a9kVqWg>

Watch the following videos : Get prepared for the lesson ahead!

<https://www.youtube.com/watch?v=GzkPXQrvApc>

<https://www.youtube.com/watch?v=3WumR2qpqP8>